

BPSC - District Statistical Officer Main Exam 2026

20/DSO/M-2026-02



Student's Copy

Serial No.	
------------	--

GENERAL STUDIES-I

Time : 3 Hours]

[Full Marks : 300

Section - I

खण्ड - I

1. Write short notes on the following :

निम्नलिखित पर संक्षिप्त टिप्पणियाँ लिखिए :

a) Partition of Bengal in 1905.

[8]

1905 का बंगाल का विभाजन

b) Ramgarh Session of India National Congress.

[8]

भारतीय राष्ट्रीय कांग्रेस का रामगढ़ अधिवेशन

c) Tinkathia System and Raj Kumar Shukla.

[8]

तीनकठिया व्यवस्था और राज कुमार शुक्ल

d) Birsa Munda

[7]

बिरसा मुंडा

e) Pala Art

[7]

पालवंश की कला

2. a) Explain how the British caused the Drain of Wealth from India in the nineteenth century? What methods did they use, and how did it affect India's economy and people? [38]

उन्नीसवीं शताब्दी में ब्रिटिश शासन द्वारा भारत से धन की निकासी कैसे की गई? उन्होंने कौन कौन से तरीके अपनाये, और इसका भारत की अर्थव्यवस्था और जनता पर क्या प्रभाव पड़ा?

OR/अथवा

- b) Explain the Champaran Satyagraha of 1917 as a turning point in India's freedom struggle, highlighting the role of Mahatma Gandhi and local leaders of Bihar. [38]

महात्मा गांधी और बिहार के स्थानीय नेताओं की भूमिका को उजागर करते हुए 1917 के चम्पारण सत्याग्रह को भारत के स्वतंत्रता संग्राम में एक मोड़ के रूप में समझाइए।

3. a) Discuss the contribution of Dr. Rajendra Prasad and Jayprakash Narayan in Bihar during the Quit India Movement of 1942. [38]

1942 के भारत छोड़ो आन्दोलन के दौरान बिहार में डॉ. राजेंद्र प्रसाद और जयप्रकाश नारायण के योगदान पर चर्चा कीजिए।

OR/अथवा

- b) Describe the Civil Disobedience Movement with special emphasis on the Salt March (Dandi March) and its impact on the national struggle. [38]

नमक मार्च (दांडी यात्रा) पर विशेष जोर देते हुए सविनय अवज्ञा आन्दोलन का वर्णन कीजिए और इसके राष्ट्रीय स्वतंत्रता संग्राम पर प्रभाव को बताइए।



Section - II

खण्ड - II

4. Answer the following questions :

निम्नलिखित प्रश्नों के उत्तर दीजिए :

- a) Discuss the significance of the recent G-20 Summit (22-23 Nov., 2025). Highlights its implications for global governance and India's Foreign Policy.[8]

हाल ही में सम्पन्न G-20 सम्मेलन (22-23 नवम्बर, 2025) का भारत के लिए महत्व की विवेचना कीजिए। वैश्विक शासन और भारत की विदेश नीति पर इसके प्रभावों को रेखांकित कीजिए।

- b) Examine the role of Election Commission of India in the recently (2025) held various elections. [8]

हाल में सम्पन्न (2025) के विभिन्न चुनावों में भारतीय निर्वाचन आयोग की भूमिका का परीक्षण कीजिए।

- c) Evaluate the effectiveness of "Bihar's Mukhymantri Kanya Utthan Yojana".[8]

बिहार की "मुख्यमंत्री कन्या उत्थान योजना" की प्रभावशीलता का मूल्यांकन कीजिए।

- d) Examine the impact of 'China factor' on India's relations with its neighbouring countries. [7]

भारत के साथ पड़ोसी देशों के संबंधों पर 'चीन कारक' के प्रभाव का परीक्षण कीजिए।

- e) Discuss the importance of climate change negotiations and international cooperation in achieving Sustainable Development Goals (SDGs). [7]

सतत विकास लक्ष्यों की प्राप्ति में जलवायु परिवर्तन वार्ताओं और अंतर्राष्ट्रीय सहयोग के महत्व पर चर्चा कीजिए।

5. a) Discuss the recent demands for statehood and Sixth Schedule (6th) status of Ladakh. What are the constitutional, political and administrative implications of these demands? [38]

लद्दाख को राज्य का दर्जा तथा छठी अनुसूची में सम्मिलित किए जाने की मांगों की चर्चा कीजिए। इन मांगों के संवैधानिक, राजनीतिक एवं प्रशासनिक निहितार्थ क्या हैं?

OR/अथवा

- b) How does 'Mission Karmayogi' support good governance and citizen centric administration? Analyse. [38]

सुशासन और नागरिक केन्द्रित प्रशासन को 'मिशन कर्मयोगी' किस तरह समर्थित करता है? विश्लेषण कीजिए।

6. a) Analyze the tariffs imposed by Donald Trump in the context of global trading system and W.T.O. principles. Discuss India's response and the longterm implications of this tariff policy on India's trade strategy. [38]

डोनाल्ड ट्रम्प द्वारा लगाए गए टैरिफ को वैश्विक व्यापार व्यवस्था और W.T.O. के सिद्धांतों के सन्दर्भ में विश्लेषित कीजिए। भारत की प्रतिक्रिया एवं इस टैरिफ नीति से भारत की व्यापार रणनीति पर पड़ने वाले दीर्घ-कालीन प्रभावों की विवेचना कीजिए।

OR/अथवा

- b) Discuss the role of Central Government Welfare Schemes in empowerment of vulnerable sections such as Women, scheduled castes and scheduled tribes. [38]

कमजोर वर्गों, महिलाओं, अनुसूचित जाति तथा जनजाति के सशक्तिकरण में केन्द्र सरकार की कल्याणकारी योजनाओं की भूमिका की चर्चा कीजिए।



Section - III

खण्ड - III


7. For some educational project in five states of India, a random sample of 1000 voters (with age 27 years and more) each from five states was taken. The table given below represents numbers of graduates, graduates who did post graduates also and persons (graduates/post graduates) doing government jobs during period 2019-2024. Study the table carefully and answer the questions given below it :

Year	M.P			H.P			U.P			PUNJAB			HARYANA		
	Graduates	PG	Jobs	Graduates	PG	Jobs	Graduates	PG	Jobs	Graduates	PG	Jobs	Graduates	PG	Jobs
2019	845	244	72	607	293	79	794	306	56	938	373	84	651	330	67
2020	924	348	87	772	384	51	554	319	76	616	339	65	872	385	54
2021	983	383	63	945	243	50	792	354	98	870	245	54	637	268	78
2022	524	239	90	553	326	89	904	241	67	938	201	75	617	377	90
2023	864	330	70	719	314	67	792	364	52	695	348	58	905	202	62
2024	648	294	96	561	351	64	987	328	82	701	346	87	828	244	67
Total	4788	1838	478	4157	1911	400	4823	1912	431	4758	1852	423	4510	1806	418


भारत के पाँच राज्यों में किसी शैक्षिक परियोजना के लिए पाँच राज्यों से 1000 मतदाताओं (27 वर्ष या उससे अधिक आयु के) का एक यादृच्छिक नमूना लिया गया था। नीचे दी गई तालिका 2019-2024 की अवधि के दौरान स्नातकों, स्नातकोत्तर उपाधि प्राप्त स्नातकों और सरकारी नौकरी करने वाले व्यक्तियों (स्नातक/स्नातकोत्तर) की संख्या को दर्शाती है। तालिका का ध्यानपूर्वक अध्ययन करें और नीचे दिए गए प्रश्नों के उत्तर दें :

वर्ष	मध्य प्रदेश			हिमाचल प्रदेश			उत्तर प्रदेश			पंजाब			हरियाणा		
	स्नातक	पीजी	नौकरियाँ	स्नातक	पीजी	नौकरियाँ	स्नातक	पीजी	नौकरियाँ	स्नातक	पीजी	नौकरियाँ	स्नातक	पीजी	नौकरियाँ
2019	845	244	72	607	293	79	794	306	56	938	373	84	651	330	67
2020	924	348	87	772	384	51	554	319	76	616	339	65	872	385	54
2021	983	383	63	945	243	50	792	354	98	870	245	54	637	268	78
2022	524	239	90	553	326	89	904	241	67	938	201	75	617	377	90
2023	864	330	70	719	314	67	792	364	52	695	348	58	905	202	62
2024	648	294	96	561	351	64	987	328	82	701	346	87	828	244	67
Total	4788	1838	478	4157	1911	400	4823	1912	431	4758	1852	423	4510	1806	418

The bar diagram given below shows Air Quality Index (AQI) scores during months October, November and December in the year 2024 of four major cities (1-Delhi, 2-Kanpur, 3-Meerut and 4-Ludhiana) in India. Study the diagram carefully and answer the questions given below it.



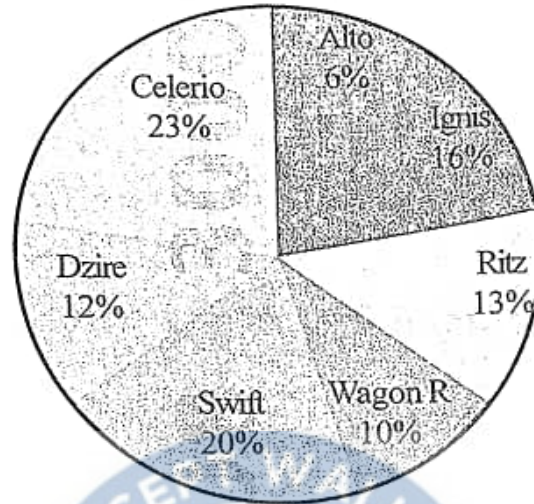
नीचे दिया गया दंड आरेख भारत के चार प्रमुख शहरों (1 - दिल्ली, 2 - कानपुर, 3 - मेरठ और 4 - लुधियाना) के वर्ष 2024 में अक्टूबर, नवंबर और दिसंबर के महीनों के दौरान वायु गुणवत्ता सूचकांक (AQI) स्कोर दर्शाता है। आरेख का ध्यानपूर्वक अध्ययन कीजिए और नीचे दिए गए प्रश्नों के उत्तर दीजिए।



- a) Which city has maximum AQI score in October? [4]
अक्टूबर में किस शहर का AQI स्कोर सबसे ज्यादा है?
- b) Which city has lowest AQI score in November? [4]
नवंबर में किस शहर का AQI स्कोर सबसे कम है?
- c) What are the average AQI scores (of all four cities) of three months? [4]
तीन महीनों के औसत AQI स्कोर (चारों शहरों के) क्या हैं?
- d) If we make Pie-chart of AQI scores of city Kanpur, then what will be the central angle for month December? [6]
यदि हम कानपुर शहर के AQI स्कोर का पाई-चार्ट बनाएँ, तो दिसंबर महीने के लिए केंद्रीय कोण क्या होगा?
- e) What is average AQI scores of four cities during months October, November and December? [6]
अक्टूबर, नवंबर और दिसंबर महीनों के दौरान चार शहरों का औसत AQI स्कोर क्या है?
- f) What percentage AQI score decrease from November to December in Meerut? [4]
नवंबर से दिसंबर तक मेरठ में AQI स्कोर में कितने प्रतिशत की कमी आई?
- g) In October, how much percentage AQI score more in Kanpur than Delhi? [4]
अक्टूबर में, कानपुर में AQI स्कोर दिल्ली से कितने प्रतिशत ज्यादा है?
- h) In December how much (in percentage) AQI score, less in Meerut than Kanpur? [4]
दिसम्बर में मेरठ का AQI स्कोर कानपुर से कितना (प्रतिशत में) कम है?

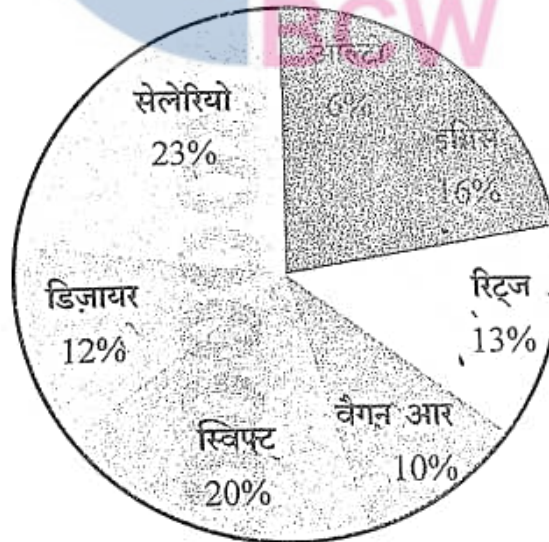
8. The following pie-chart represents the online sales (in percentage) of seven models of first 10,000 cars of Maruti in year 2024. Study the chart carefully and answer the questions given below it :

Online sale of cars - 2024



निम्नलिखित पाई-चार्ट वर्ष 2024 में मारुति की पहली 10,000 कारों के सात मॉडलों की ऑनलाइन बिक्री (प्रतिशत में) को दर्शाता है। चार्ट का ध्यानपूर्वक अध्ययन करें और नीचे दिए गए प्रश्नों के उत्तर दें :

कारों की ऑनलाइन बिक्री - 2024



a) How many cars are sold of most popular brand of Maruti? [6]

मारुति के सबसे लोकप्रिय ब्रांड की कितनी कारें बिकीं?

b) How many more cars of model Wagon R sold than model Alto? [6]

ऑल्टो मॉडल की तुलना में वैगन-आर मॉडल की कितनी कारें अधिक बिकीं?

c) What is the average sale of models Celerio, Swift and Ignis? [6]

सेलेरियो, स्विफ्ट और इग्निस मॉडल की औसत बिक्री क्या है?

d) What is central angle of sector formed by Swift in Pie-Chart? [6]

पाई-चार्ट में स्विफ्ट द्वारा बनाए गए सेक्टर का केंद्रीय कोण क्या है?

e) What is total sale of three car models Ritz, Dzire and Alto? [6]

तीन कार मॉडल रिट्ज, डिजायर और ऑल्टो की कुल बिक्री क्या है?

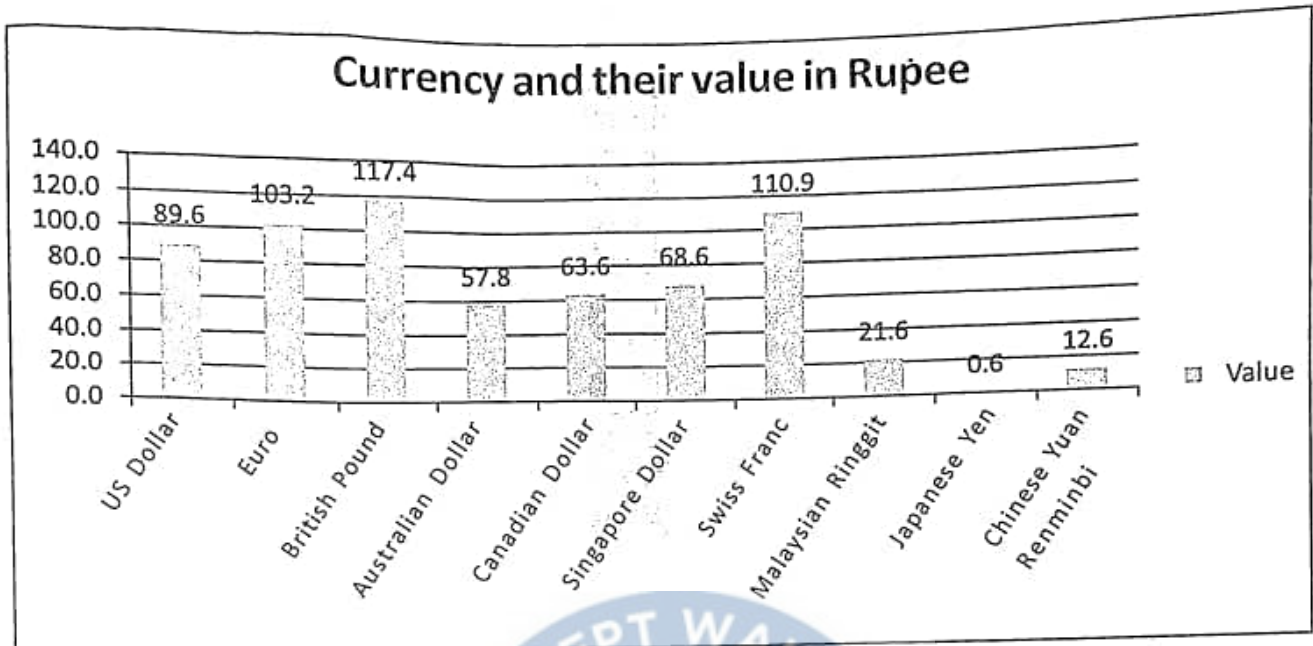
f) Which model of cars has lowest online sale in 2024? If we remove sector from pie-chart with lowest sale and form another pie-chart with remaining six models then how much percentage of Swift sector increase? [6]

2024 में कारों के किस मॉडल की ऑनलाइन बिक्री सबसे कम है? यदि हम पाई-चार्ट से सबसे कम बिक्री वाले सेक्टर को हटा दें और शेष छह मॉडलों के साथ एक और पाई-चार्ट बनाएँ, तो स्विफ्ट सेक्टर में कितने प्रतिशत की वृद्धि होगी?

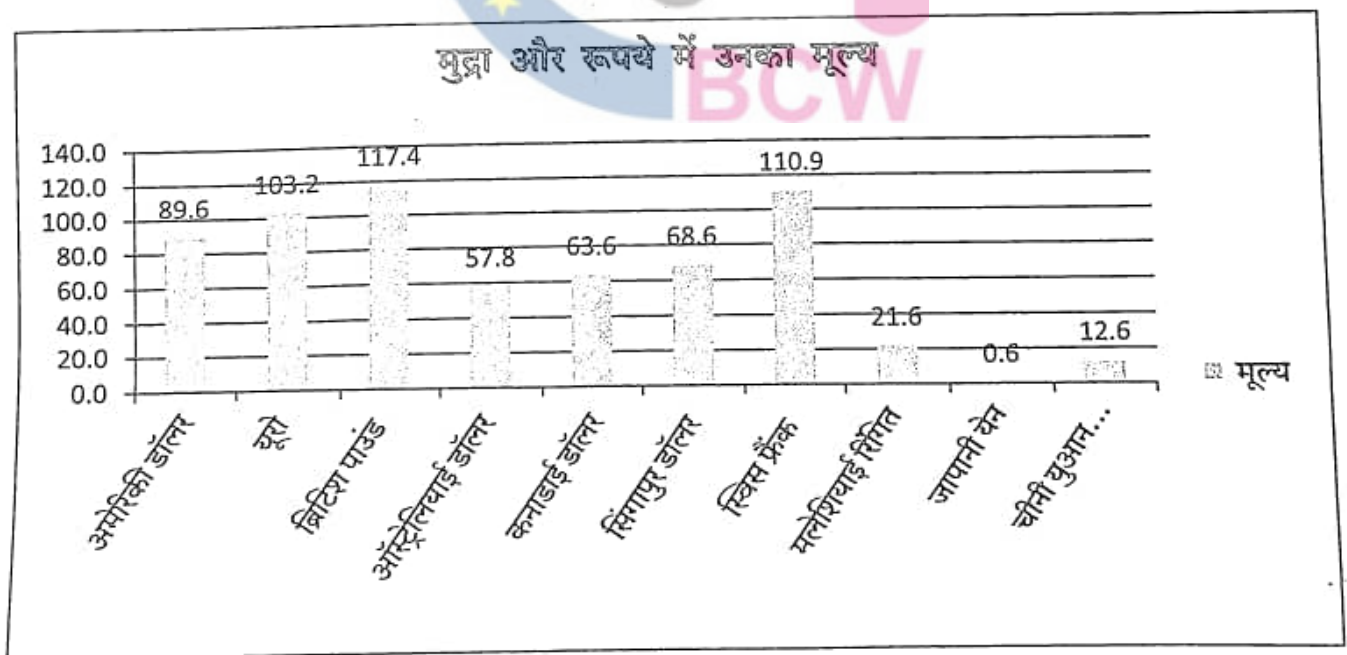
OR\अथवा



The bar diagram given below shows present currency value in rupee of ten different countries (for example one US \$ = Rs. 89.6). Study the diagram carefully and answer the questions given below it.



नीचे दिया गया दंड आरेख दस विभिन्न देशों की वर्तमान मुद्रा का मूल्य रुपये में दर्शाता है (उदाहरण के लिए, एक अमेरिकी डॉलर = 89.6 रुपये)। आरेख का ध्यानपूर्वक अध्ययन कीजिए और नीचे दिए गए प्रश्नों के उत्तर दीजिए।



a) What is the value of the Euro in terms of the US Dollar? [5]
अमेरिकी डॉलर के संदर्भ में यूरो का मूल्य क्या है?

b) Among currencies mentioned in bar chart which currency has maximum value and minimum values in rupee? [5]

बार चार्ट में दर्शाई गई मुद्राओं में से किस मुद्रा का मूल्य रुपये में अधिकतम और न्यूनतम है?

c) Which two countries currency value falls in the middle of all listed currencies values? [5]

किन दो देशों की मुद्रा का मूल्य सभी सूचीबद्ध मुद्राओं के मूल्यों के बीच में आता है?

d) How much percentage British pound has more value than US dollar? [6]

ब्रिटिश पाउंड का मूल्य अमेरिकी डॉलर से कितने प्रतिशत अधिक है?

e) What is the value of Japanese Yen in Euros? [5]

यूरो में जापानी येन का मूल्य कितना है?

f) How much percentage Singapore Dollar has lesser value than US dollar? [5]

सिंगापुर डॉलर का मूल्य अमेरिकी डॉलर से कितने प्रतिशत कम है?

g) Which four countries dominate in terms of rupee value among these ten currencies? [5]

इन दस मुद्राओं में से रुपये के मूल्य के संदर्भ में कौन-से चार देश प्रमुख हैं?

AEDO



BPSC CONCEPT WALLAH AEDO TEST SERIES 3.0 (Test Schedule)

Test Series 3.0

"बस एक Exam और बने officer"



Online Test



In Just
499+GST

Offline Test



In Just
999+GST



08048620236

Starting from 01st FEB

www.bpscconceptwallah.com

8th Floor, kashi Palace, Dakbanglow, Patna-01

9341212632 | 08048620236

TEST	DATE	TEST SUBJECT
FLT-1	01 FEB	General Studies
FLT-2	08 FEB	Maths & Reasoning
FLT-3	15 FEB	General Studies
FLT-4	22 FEB	Maths & Reasoning
FLT-5	01 MARCH	General Studies
FLT-6	08 MARCH	Maths & Reasoning
FLT-7	15 MARCH	General Studies
FLT-8	22 MARCH	Maths & Reasoning
FLT-9	Simulator-1 29 MARCH	General Studies
FLT-10		Maths & Reasoning
FLT-11	Simulator-2 05 APRIL	General Studies
FLT-12		Maths & Reasoning
FLT-13		Language Paper

Upgrade to AEDO Test Series 3.0 now and keep your momentum going!

Contact: 08048620236

Enroll Now 📲

👉 website link: <https://bcwsahcharweb.learncentre.tech/home>

👉 App link : <https://play.google.com/store/apps/details?id=com.lct.urtvwezpl>

NIPUN

CURRENT AFFAIRS

LAUNCHING FROM

2nd Feb

<http://www.bpscconceptwallah.com>

08048620236

COMING SOON

14th JPSC Course

<http://www.bpscconceptwallah.com>

08048620236

MOOLYANKAN

(Module 1)

“लिखिए कहीं, मूल्यांकन यहीं।”

What is MOOLYANKAN ?

➤ **MOOLYANKAN** is **BCW's** Open Evaluation Platform created for aspirants who are writing answers regularly but are not getting quality evaluation. Many students attempt tests from different sources, but the feedback they receive is often poor, generic, or not mains-oriented. **MOOLYANKAN** solves *this gap* by allowing students to write answers on questions of their own choice and get them evaluated by **BCW** with quality, detailed, actionable feedback.

This is strictly an evaluation program—not a test series. Since questions come from the student's end, no model answers are provided. The core deliverable is detailed evaluation, shared within a strict timeline.

Module 1: Short Answer Evaluation

This module is designed for aspirants who want to improve precision, structure, and value-addition in short answers, the most common scoring gap in BPSC Mains.

Evaluation Capacity

- Total: 60 short answers in one month

Submission Structure

- Total Submissions: 12 times (12 tests)
- Per Submission: 5 short answers
- Total in a month: $12 \times 5 = 60$ short answers

Question Choice

- The student chooses any short questions they want (PYQs / self-practice / coaching tests / any source).
- You write where you want—submission + evaluation happens on BCW platform.

Evaluation Timeline

- Evaluated copy shared within 2 days of each submission.

What Evaluation Covers

- Demand understanding in limited words
- Structure and sequencing
- Relevance and content density
- Presentation, language, and improvement cues
- Specific corrections and actionable suggestions

Who should choose Module 1?

- Students struggling with short answers writing
- Candidates who need consistent, fast feedback loops

- ✓ If you want long-answer polishing as well, you can join MOOLYANKAN Module 2 (Long Answers).
- ✓ If you want full paper simulation, join Module 3 (GS FLT Evaluation).
- ✓ For essay-specific improvement, join Module 4 (Essay Evaluation).

💰 **Fee: ₹699 + GST**

📅 **Validity: 16 January – 16 February**

🌐 <https://bpsconceptwallah.com/>

☎ 8048620236 | 9341212632 | 9113430228 | 7667229306

Short Answer Package <https://learn.bpsconceptwallah.com/products/moolyankan-module-1/>

Long Answer Package : <https://learn.bpsconceptwallah.com/products/moolyankan-module-2/>

Full length Test Package: <https://learn.bpsconceptwallah.com/products/moolyankan-module-3/>

Essay Test Package: <https://learn.bpsconceptwallah.com/products/moolyankan-module-4/>

For any queries, you can contact on 08048620236